

**Scheda 1 TABELLE**

■ Osserva la tabella e inserisci nell'ultima colonna il numero corrispondente alla posizione, come nell'esempio.

CITTÀ	ABITANTI	POSIZIONE
Venezia	261 321	
Genova	580 097	
Livorno	158 371	
Ancona	100 924	
Bari	323 370	
Napoli	966 144	1 <sup>a</sup>
Palermo	668 405	

■ Rispondi.

- Qual è la città con il maggior numero di abitanti? \_\_\_\_\_
- Qual è la città con il minor numero di abitanti? \_\_\_\_\_
- Quale città ha circa un terzo degli abitanti di quella più popolosa?  
\_\_\_\_\_

■ Osserva la tabella e rispondi.


PARCO NAZIONALE	SUPERFICIE (IN ETTARI)
Gran Paradiso	71 044
Monti Sibillini	69 722
Sila	73 695
Golfo di Orosei e Gennargentu	73 935
Aspromonte	65 647

- Qual è il Parco Nazionale più esteso?  
\_\_\_\_\_
- Quali Parchi si trovano in seconda e terza posizione rispetto alla superficie?  
2<sup>a</sup> \_\_\_\_\_  
3<sup>a</sup> \_\_\_\_\_
- Quale Parco ha la superficie più piccola? \_\_\_\_\_



**Scheda 3 ISTOGRAMMI**

■ **Osserva l'istogramma.**



■ **Rispondi.**

- Che cosa rappresenta questo istogramma? Scrivi un titolo adatto.

\_\_\_\_\_

- Qual è l'unità di misura utilizzata per definire la lunghezza del percorso di un fiume?

\_\_\_\_\_

- Quali sono i cinque fiumi italiani più lunghi?

\_\_\_\_\_

\_\_\_\_\_

\_\_\_\_\_

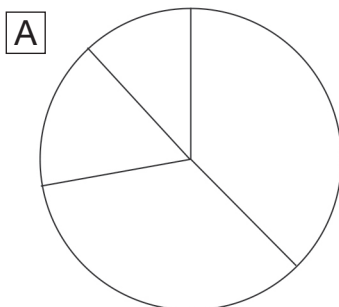
\_\_\_\_\_

- Uno di essi attraversa la tua Regione? Se sì, quale?

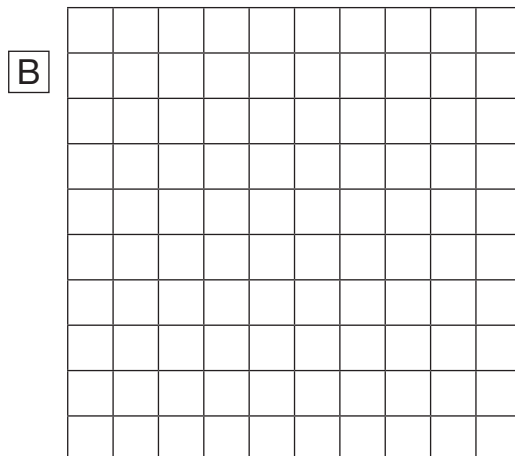
\_\_\_\_\_

**Scheda 4 AREOGRAMMI**

■ Osserva gli areogrammi e completa le didascalie.



• Questo è un areogramma \_\_\_\_\_ ,  
detto anche \_\_\_\_\_.



• Questo è un areogramma \_\_\_\_\_  
formato da \_\_\_\_\_ quadretti.

■ Colora la legenda e utilizza i dati per completare l'areogramma B.









**Legenda:**

**Superficie dell'Italia**

- coperta da foreste 34%
- utilizzata per l'agricoltura 37%
- coperta da prati 15%
- altro 14%










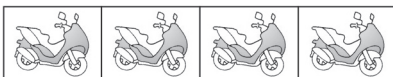
**Scheda 5 IDEOGRAMMI**

■ L'ideogramma indica i libri letti in un anno dagli alunni della classe 5<sup>a</sup> B. Osserva il grafico e completa il testo.

Nicola	
Maria	
Zoe	
Marco	
Alice	
Paolo	
Amir	
Ingrid	

- Ha letto più libri \_\_\_\_\_ e \_\_\_\_\_ ne ha letti meno di tutti.
- Ne hanno letti lo stesso numero \_\_\_\_\_ e \_\_\_\_\_.

■ Osserva l'ideogramma e rispondi.

Mezzi osservati	n°	
Autobus	20	 
Camion	35	 
Auto	72	 
Biciclette	35	 
Moto	40	 

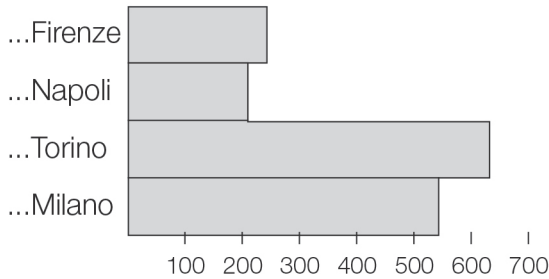
- Quale fenomeno viene rappresentato nell'ideogramma? \_\_\_\_\_
- Quale quantità rappresenta ogni simbolo? \_\_\_\_\_

**Verifica 1 RAPPRESENTAZIONE DEI DATI**

■ **Scrivi sotto a ogni grafico il nome corretto scegliendolo tra quelli proposti nel riquadro.**

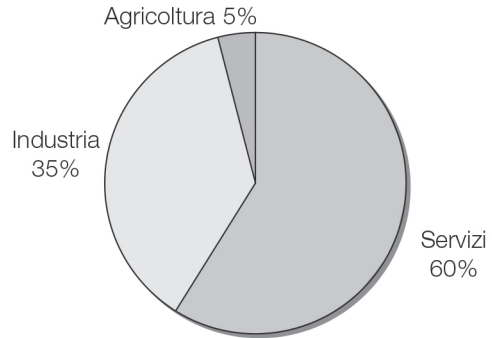
istogramma • piramide dell'età • areogramma quadrato  
 tabella • diagramma cartesiano • areogramma a torta • ideogramma

Distanza in km tra Roma e ...



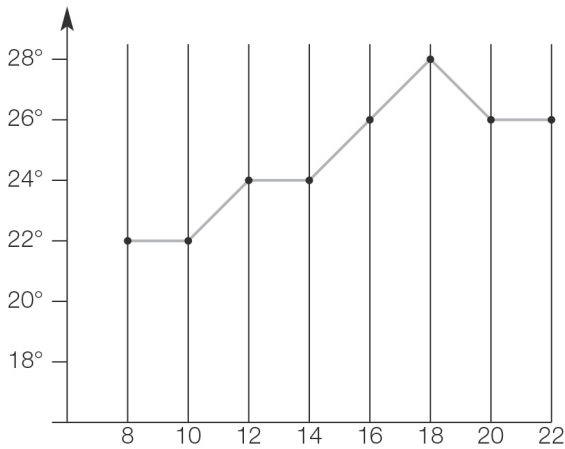
\_\_\_\_\_

Occupati per settore



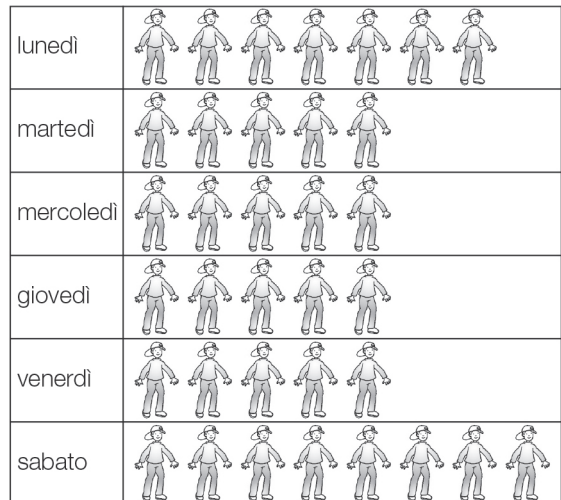
\_\_\_\_\_

Registrazione delle temperature



\_\_\_\_\_

Bambini in palestra  = 10 bambini



\_\_\_\_\_